
NOM:

PRÉNOM:

SCORE: /20

CLASSE:

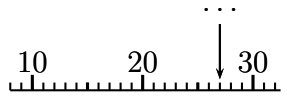
✓ *Durée: 7 minutes*



✓ *L'épreuve comporte 20 questions.*

✓ *L'usage de la calculatrice et du brouillon sont interdits. Il n'est pas permis d'écrire des calculs intermédiaires.*

SUJET CP MARS 2019



	ÉNONCÉ	RÉPONSE	JURY
1)	Complète.	$7 + 8 = \dots$	
2)	Complète.	$18 - 8 = \dots$	
3)	J'ai 1 unité et 4 dizaines. Qui suis-je?		
4)	Papa achète 4 pommes, 3 poires et 2 bananes. Combien a-t-il de fruits ?	\dots fruits	
5)	Complète.	$10 - \dots = 7$	
6)	J'ai 2 pièces de 2 € et 3 pièces de 1 €. Combien ai-je d'argent ?	\dots €	
7)	Complète.	$8 + \dots = 16$	
8)	Complète.	$17 + 10 = \dots$	
9)	Je trace 7 croix sur l'ardoise puis j'en efface 4. Combien en reste-t-il ?	\dots croix	
10)	Quel est le nombre désigné par la flèche ?		

	ÉNONCÉ	RÉPONSE	JURY								
11)	Écris en chiffres 4 dizaines + 3 dizaines.										
12)	J'ai 5 dizaines et autant d'unités. Qui suis-je?										
13)	Complète.	$30 + 20 = \dots$									
14)	Complète.	<table border="1" style="display: inline-table;"> <tr> <td>38</td> <td>40</td> <td>42</td> <td>\dots</td> <td>46</td> </tr> </table>	38	40	42	\dots	46				
38	40	42	\dots	46							
15)	Complète.	$37 - 4 = \dots$									
16)	Complète.	$5 + 2 + 3 + 8 = \dots$									
17)	Entoure la plus grande quantité.	$2 + 7$ $3 + 5$									
18)	Quel nombre j'obtiens si j'ajoute 3 unités à 45 ?										
19)	J'obtiens  Sur quelle case dois-je déplacer la grenouille ?  <table border="1" style="display: inline-table;"> <tr> <td>3</td> <td>4</td> <td>5</td> <td>6</td> <td>7</td> <td>8</td> <td>9</td> <td>10</td> </tr> </table>	3	4	5	6	7	8	9	10		
3	4	5	6	7	8	9	10				
20)	Complète.	$55 + \dots = 60$									