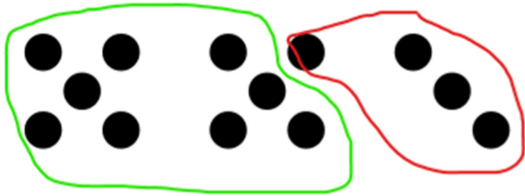


Décomposer le nombre 13 :

Aide-toi des collections de points pour décomposer le nombre 13. Ecris les calculs :

La décomposition du 13



$$9 + 4 = 13$$

$$4 + 9 = 13$$

La décomposition du 13



.....

.....

La décomposition du 13



.....

.....

La décomposition du 13



.....

.....


La décomposition du 13



.....

.....

La décomposition du 13



.....


.....

La décomposition du 13



.....

La décomposition du 13



.....